

Corrigé – Mathématiques I – 13GE / GI

Question I (voir recueil) (5+4+1 = 10 points)

Question II (3+13 = 16 points)

Partie A (3 points):

$$2e^{2x} - 12e^x + 10 \geq 0$$

Posons $y = e^x$

$$\text{Donc résolvons } 2y^2 - 12y + 10 \geq 0$$

$$\Leftrightarrow y \in]-\infty; 1] \cup [5; +\infty[$$

$$\Leftrightarrow y \leq 1 \quad \text{ou} \quad y \geq 5$$

$$\Leftrightarrow e^x \leq 1 \quad \text{ou} \quad e^x \geq 5$$

$$\Leftrightarrow x \leq \ln(1) \quad \text{ou} \quad x \geq \ln(5)$$

$$\Leftrightarrow x \leq 0 \quad \text{ou} \quad x \geq \ln(5)$$

$$\Delta = 12^2 - 4 \cdot 2 \cdot 10 = 64$$

$$y_1 = \frac{12 - 8}{4} = 1$$

$$y_2 = \frac{12 + 8}{4} = 5$$

$$S =]-\infty; 0] \cup [\ln(5); +\infty[$$

Partie B : (3+4,5+1,5+4=13 points)

$$f(x) = e^{2x} - 12e^x + 10x + 11$$

$$1) \lim_{x \rightarrow +\infty} \left[\underbrace{e^{2x}}_{\rightarrow +\infty} \underbrace{-12e^x}_{\rightarrow -\infty} \underbrace{+10x}_{\rightarrow +\infty} + 11 \right] \quad \text{F.I. "}\infty-\infty\text{"}$$

$$\lim_{x \rightarrow -\infty} \left[\underbrace{e^{2x}}_{\rightarrow 0} \underbrace{-12e^x}_{\rightarrow 0} \underbrace{+10x}_{\rightarrow -\infty} + 11 \right] = -\infty$$

$$f \text{ n'admet pas d'A.H. en } -\infty.$$

$$= \lim_{x \rightarrow +\infty} \left[\underbrace{e^{2x}}_{+\infty} \cdot \left(\underbrace{1}_{\rightarrow 0} \underbrace{-12/e^x}_{\rightarrow 1} \right) \underbrace{+10x}_{\rightarrow +\infty} + 11 \right]$$

$$= +\infty$$

La fonction f n'admet pas d'A.H. en $+\infty$.

$$2) \lim_{x \rightarrow -\infty} \frac{f(x)}{x}$$

$$= \lim_{x \rightarrow -\infty} \left(\frac{e^{2x}}{x} - \frac{12e^x}{x} + 10 + \frac{11}{x} \right)$$

$$= \lim_{x \rightarrow -\infty} \left(\underbrace{\frac{e^x}{x}}_{\rightarrow 0} \cdot \underbrace{e^x}_{\rightarrow 0} - \frac{12e^x}{x} + 10 + \frac{11}{x} \right)$$

$$\lim_{x \rightarrow -\infty} [f(x) - ax]$$

$$= \lim_{x \rightarrow -\infty} [e^{2x} - 12e^x + 10x + 11 - 10x]$$

$$= \lim_{x \rightarrow -\infty} \left[\underbrace{e^{2x}}_{\rightarrow 0} \underbrace{-12e^x}_{\rightarrow 0} + 11 \right]$$

$$= 11 \text{ donc } b = 11$$

$$= 10 \text{ donc } a = 10$$

La courbe admet en $-\infty$ une A.O. d'équation $y = 10x + 11$ 

Position A.O. par rapport à C_f :

Etudions le signe de $f(x) - y$:

$\forall x \in]-\infty; 0]$:

$$f(x) - y$$

$$= e^{2x} - 12e^x + 10x + 11 - 10x - 11$$

$$= e^{2x} - 12e^x$$

$$= \underbrace{e^x}_{>0} (e^x - 12)$$

$$e^x - 12 < 0$$

$$\Leftrightarrow x < \ln 12$$

$f(x) - y < 0$ ssi $x < \ln 12$ donc sur $]-\infty; 0]$ la courbe est en-dessous de Δ .

$$3) \forall x \in \mathbb{R} : f'(x) = 2e^{2x} - 12e^x + 10$$

De la partie A on peut déduire le signe de $f'(x)$.

x	$-\infty$	0	$\ln 5$	$+\infty$
$f'(x)$		+	-	+
$f(x)$	$-\infty$	0	$10 \ln 5 - 24$	$+\infty$

$$\begin{aligned} f(\ln 5) &= e^{2 \ln 5} - 12e^{\ln 5} + 10 \ln 5 + 11 \\ &= 25 - 60 + 10 \ln 5 + 11 \\ &= 10 \ln 5 - 24 \end{aligned}$$

$$f(0) = 1 - 12 + 0 + 11 = 0$$


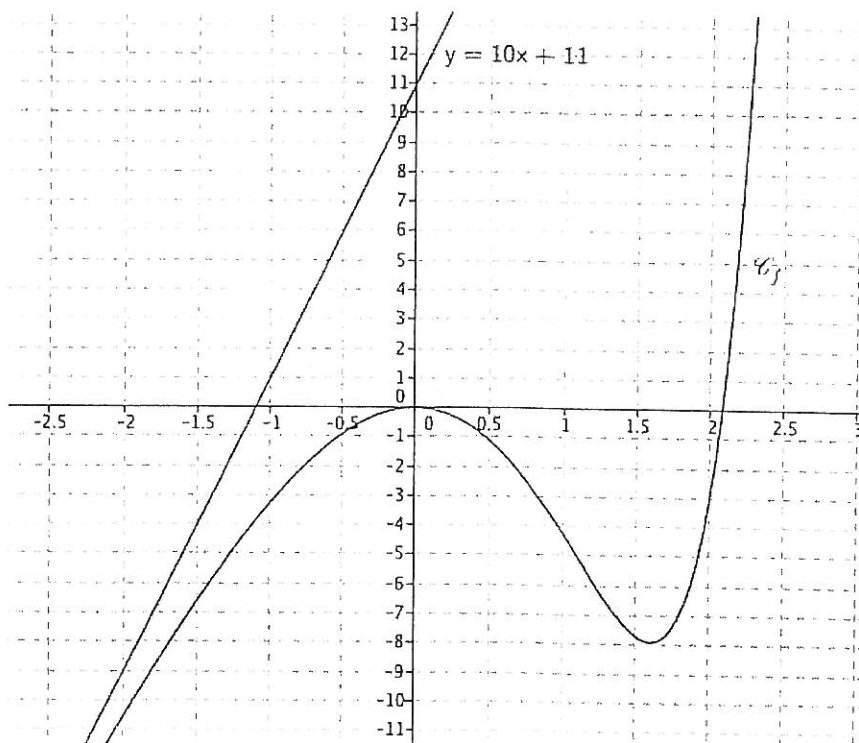
$$4) f(2) = e^4 - 12e^2 + 31 \approx -3,07$$

$$f(3) = e^6 - 12e^3 + 41 \approx 203,4$$

La fonction f est continue sur \mathbb{R} et strictement croissante sur $]2; 3[$ et $f(2) \cdot f(3) < 0$

Il existe une solution unique α , telle que $f(x) = 0$ sur $]2; 3[$ et $2,08 < \alpha < 2,09$

5) Représentation
graphique :



Question III : (4 points)

$$\begin{aligned}
 1 + \ln\left(\frac{2x}{1-x}\right) &< \ln[e \cdot (x+1)] \\
 \Leftrightarrow \ln\left(\frac{2x}{1-x}\right) - \ln(x+1) &< \ln e - 1 \\
 \Leftrightarrow \ln\left(\frac{2x}{1-x} \cdot \frac{1}{x+1}\right) &< 0 \\
 \Leftrightarrow \frac{2x}{1-x} \cdot \frac{1}{x+1} &< 1 \\
 \Leftrightarrow \frac{2x}{1-x^2} - 1 &< 0 \\
 \Leftrightarrow \frac{x^2 + 2x - 1}{\underbrace{1-x^2}_{>0 \text{ sur } E}} &< 0 \\
 \Leftrightarrow x^2 + 2x - 1 &< 0 \\
 S =]0; -1 + \sqrt{2}[&
 \end{aligned}$$

C.E. 1) $x \neq 1$	2) $\frac{2x}{1-x} > 0$	3) $e \cdot (x+1) > 0$
	$\Leftrightarrow x \in]0; 1[$	$\Leftrightarrow x > -1$
$E =]0; 1[$		

$$\Delta = 4 + 4 = 8$$

$$y_1 = \frac{-2 - 2\sqrt{2}}{2} = -1 - \sqrt{2} \approx -2,41$$

$$y_2 = \frac{-2 + 2\sqrt{2}}{2} = -1 + \sqrt{2} \approx 0,414$$

Question IV : (8 points)

Notons \mathcal{D} le domaine en question. Alors :

$$\begin{aligned}
 \mathcal{A}(\mathcal{D}) &= \int_{e^{-1}}^1 -f(t) dt + \int_1^2 f(t) dt \\
 &= -\int_{e^{-1}}^1 f(t) dt + \int_1^2 f(t) dt \\
 &= -F(1) + F(e^{-1}) + F(2) - F(1) \\
 &= F(e^{-1}) + F(2) - 2F(1),
 \end{aligned}$$

où F est une primitive de f sur $[e^{-1}; 2]$. Soit G une autre primitive de f sur cet intervalle. Elle est (par exemple) définie par :

$$G(x) = \int_1^x f(t) dt = \int_1^x t \ln t dt$$

Intégrons par parties :

$$\begin{cases} u(t) = \ln t & u'(t) = \frac{1}{t} \\ v'(t) = t & v(t) = \frac{t^2}{2} \end{cases}$$

Et donc :

$$\begin{aligned}
 G(x) &= \left[\frac{t^2}{2} \ln t \right]_1^x - \int_1^x \frac{t}{2} dt \\
 &= \left[\frac{t^2}{2} \ln t \right]_1^x - \left[\frac{t^2}{4} \right]_1^x \\
 &= \frac{x^2}{2} \ln x - 0 - \left(\frac{x^2}{4} - \frac{1}{4} \right) \\
 &= \frac{x^2}{2} \ln x - \frac{x^2}{4} + \frac{1}{4}
 \end{aligned}$$

Choisissons donc pour F :

$$F(x) = \frac{x^2}{2} \ln x - \frac{x^2}{4}$$

Finalement :

$$\begin{aligned}
 \mathcal{A}(\mathcal{D}) &= F(e^{-1}) + F(2) - 2F(1) \\
 &= -\frac{e^{-2}}{2} - \frac{e^{-2}}{4} + 2 \ln 2 - 1 - 2 \left(0 - \frac{1}{4} \right) \\
 &= \left(-\frac{3}{4e^2} + 2 \ln 2 - \frac{1}{2} \right) \text{ u.a.}
 \end{aligned}$$



Question V : (2+3 = 5 points)

$$\begin{aligned}
 a) \int_e^{e^2} \frac{1}{t \cdot \ln^2(t)} dt \\
 &= \int_e^{e^2} \frac{1}{t} \cdot (\ln t)^{-2} dt \\
 &= \left[-\frac{1}{\ln t} \right]_e^{e^2} \\
 &= -\frac{1}{2} + 1 \\
 &= \frac{1}{2}
 \end{aligned}$$

$$\begin{aligned}
 b) \int_0^{\frac{1}{2}} \cos^3(\pi t) dt \\
 &= \int_0^{\frac{1}{2}} \cos(\pi t) \cdot \cos^2(\pi t) dt \\
 &= \int_0^{\frac{1}{2}} \cos(\pi t) \cdot (1 - \sin^2(\pi t)) dt \\
 &= \int_0^{\frac{1}{2}} (\cos(\pi t) - \cos(\pi t) \cdot \sin^2(\pi t)) dt \\
 &= \left[\frac{1}{\pi} \sin(\pi t) - \frac{1}{3\pi} \sin^3(\pi t) \right]_0^{\frac{1}{2}} \\
 &= \frac{1}{\pi} - \frac{1}{3\pi} - 0 + 0 \\
 &= \frac{2}{3\pi}
 \end{aligned}$$

Question VI : (1+4+2 = 7 points)

1) \rightarrow

2) $EL = UB$ et $BL = 6 - x$

Par le théorème de Thalès dans le triangle ABC avec $(EL) \parallel (BC)$:

$$\frac{AL}{AB} = \frac{EL}{BC}$$

$$\Leftrightarrow \frac{x}{6} = \frac{EL}{18}$$

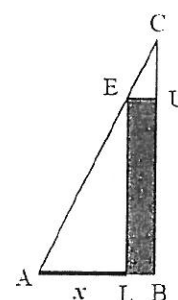
$$\Leftrightarrow EL = 3x$$

Donc l'aire du rectangle BLEU :

$$A(x) = BL \cdot EL$$

$$\Leftrightarrow A(x) = (6 - x) \cdot 3x$$

$$\Leftrightarrow A(x) = 18x - 3x^2$$



3) La fonction A est définie et dérivable sur \mathbb{R}

$$\forall x \in]0; 6[: A'(x) = 18 - 6x = 6(3 - x)$$

x	0	3	6
$A'(x)$		+	-
$A(x)$	0	Max	0

$$\begin{aligned}
 \lim_{x \rightarrow 0} A(x) &= 0 \\
 \lim_{x \rightarrow 6} A(x) &= 0
 \end{aligned}$$

Donc l'aire du rectangle est maximale lorsque $AL = 3$ m, c'est-à-dire L se situe au milieu de $[AB]$.



Question VII (10 points)

$$f(x) = e^{3x} - 2x + 1 \quad D_f = \mathbb{R}$$

$M(x_0; f(x_0))$ un point appartenant à C_f .

$$\forall x \in \mathbb{R} : f'(x) = 3e^{3x} - 2$$

T_{x_0} est la tangente à C_f en M .

$$T_{x_0} \equiv y = f'(x_0)(x - x_0) + f(x_0)$$

$$y = (3e^{3x_0} - 2)(x - x_0) + e^{3x_0} - 2x_0 + 1$$

$$y = (3e^{3x_0} - 2)x - 3e^{3x_0} \cdot x_0 + \cancel{2x_0} + e^{3x_0} - \cancel{2x_0} + 1$$

$$y = \underbrace{(3e^{3x_0} - 2)x - 3e^{3x_0} \cdot x_0 + e^{3x_0} + 1}$$

$$A \in T_{x_0} \Leftrightarrow 0 = (3e^{3x_0} - 2) \left(\frac{-1}{3} \right) - 3e^{3x_0} \cdot x_0 + e^{3x_0} + 1$$

$$\Leftrightarrow 0 = \cancel{-e^{3x_0}} + \frac{2}{3} - 3e^{3x_0} \cdot x_0 + \cancel{e^{3x_0}} + 1$$

$$\Leftrightarrow 0 = -3e^{3x_0} \cdot x_0 + \frac{5}{3}$$

Posons la fonction g définie sur \mathbb{R} par $g(x) = -3e^{3x} \cdot x + \frac{5}{3}$ pour résoudre $g(x) = 0$

$$\begin{aligned} \forall x \in \mathbb{R} \quad g'(x) &= -9e^{3x} \cdot x - 3e^{3x} \\ &= -3e^{3x} (3x + 1) \end{aligned}$$

$$\begin{aligned} g\left(-\frac{1}{3}\right) &= -3e^{-1} \left(-\frac{1}{3}\right) + \frac{5}{3} \\ &= e^{-1} + \frac{5}{3} \approx 2,03 \end{aligned}$$

$$\lim_{x \rightarrow +\infty} g(x) = \lim_{x \rightarrow +\infty} \left(-3e^{3x} \cdot x + \frac{5}{3} \right) = -\infty$$

$$\lim_{x \rightarrow -\infty} g(x) = \lim_{x \rightarrow -\infty} \left(-3x \cdot e^x \cdot e^{2x} + \frac{5}{3} \right) = \frac{5}{3}$$

x	$-\infty$	$-\frac{1}{3}$	$+\infty$
$g'(x)$		$\begin{matrix} + \\ \vdots \\ 0 \\ \vdots \\ - \end{matrix}$	
$g(x)$	$\frac{5}{3}$	$e^{-1} + \frac{5}{3}$	$-\infty$

g est continue et strictement croissante sur $]-\infty; -\frac{1}{3}[$.

De plus g est strictement positive sur $]-\infty; -\frac{1}{3}[$.

Donc $g(x) = 0$ n'admet pas de solution sur $]-\infty; -\frac{1}{3}[$.

g est continue et strictement décroissante sur $[-\frac{1}{3}; +\infty[$.

De plus $g\left([-\frac{1}{3}; +\infty[\right) =]-\infty; e^{-1} + \frac{5}{3}]$ et $0 \in]-\infty; e^{-1} + \frac{5}{3}]$.

Donc $g(x) = 0$ admet une solution unique sur $[-\frac{1}{3}; +\infty[$.

C_f admet une seule tangente passant par le point $A\left(-\frac{1}{3}; 0\right)$

