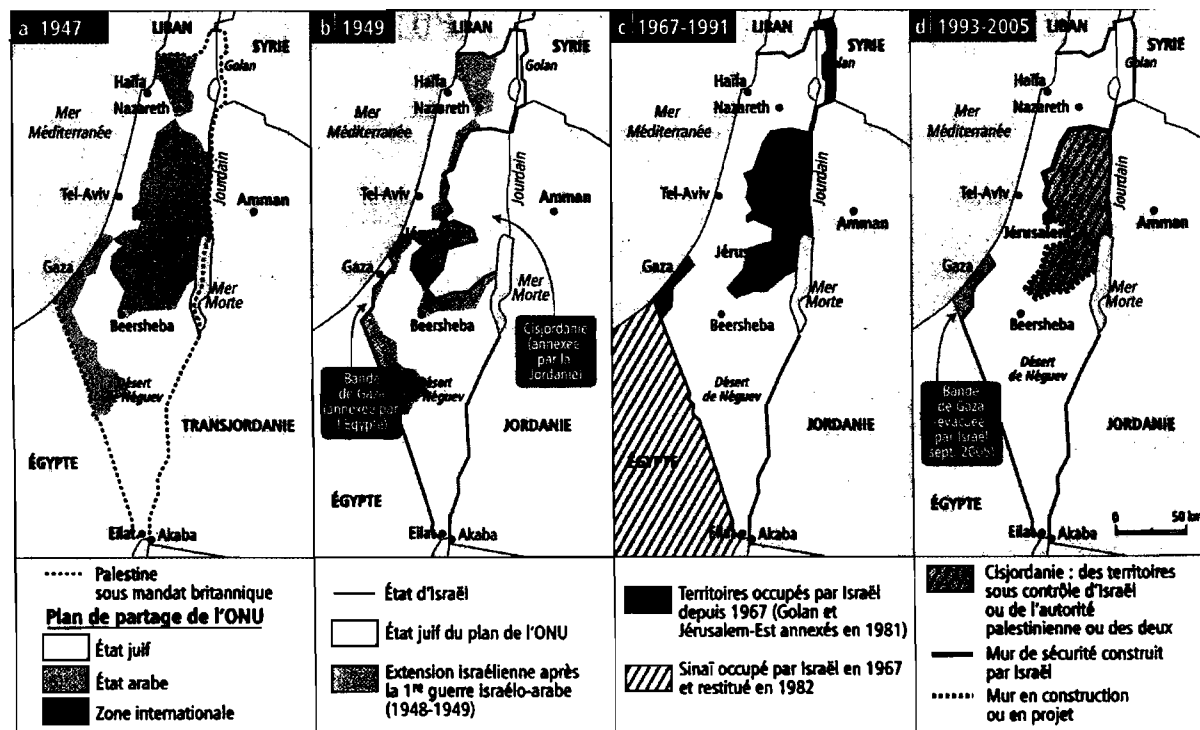


Code branche CONMO	Ministère de l'Éducation nationale, de l'Enfance et de la Jeunesse EXAMEN DE FIN D'ÉTUDES SECONDAIRES TECHNIQUES Régime technique – Session 2014	
Épreuve écrite	Branche Connaissance du Monde Contemporain	Division / Section CG / CC / GE / GI / AR
Durée de l'épreuve 2h		
Date de l'épreuve 16.05.2014		

I. Relations internationales de 1945 à nos jours : le Proche Orient depuis 1945 (21 points)

Doc. 1 :

a) La question israélo-palestinienne (cartes)



(veuillez tourner la page s.v.p.)

b) Résolution 242 de l'ONU, 22 novembre 1967, New York

« Le Conseil de Sécurité,

Exprimant l'inquiétude que continue de lui causer la grave situation au Moyen-Orient.

Soulignant l'inadmissibilité de l'acquisition de territoires par la guerre et la nécessité d'œuvrer pour une paix juste et durable permettant à chaque État de la région de vivre en sécurité [...].

Affirme que l'accomplissement des principes de la Charte [des Nations-Unies] exige l'instauration d'une paix juste et durable au Moyen-Orient qui devrait comprendre l'application des deux principes suivants :

- A. Retrait des forces armées israéliennes des territoires occupés lors du récent conflit ; [...]
- B. Respect et reconnaissance de la souveraineté, de l'intégrité territoriale et de l'indépendance politique de chaque État de la région et de leur droit de vivre en paix à l'intérieur de frontières sûres et reconnues à l'abri de menaces ou d'actes de force. »

1. **Doc. 1** [hors-texte] : Qu'est-ce qu'une résolution d'ONU? **(2)**
2. **Doc. 1** [hors-texte] : Présentez les événements de 1967 au Moyen-Orient en partant sur la phrase suivante : « *des territoires occupés lors du récent conflit* ». **(6)**
3. **Doc. 1** [texte] : Qu'est-ce que la résolution 242 demande aux États arabes ? aux Palestiniens ? aux Israéliens ? **(6)**
4. **Doc. 1** [hors-texte] : Ce texte a-t-il été appliqué entre 1967 et 2005 ? Pourquoi ? **(7)**


II. Relations internationales de 1945 à nos jours : la Guerre Froide (11 points)

5. Déterminez et présentez brièvement les organisations par lesquelles l'URSS assurait sa domination..

- a) économique et
- b) militaire

...sur les pays satellites d'Europe de l'Est après 1945. **(4)**

Doc. 2 : Caricature de Plantu dans *Le Monde*, janvier 1989



3 Caricature de Plantu, *Le Monde*, janvier 1989

6. **Doc. 2 :** Décrivez et commentez la caricature en tenant compte du contexte historique ! (7)

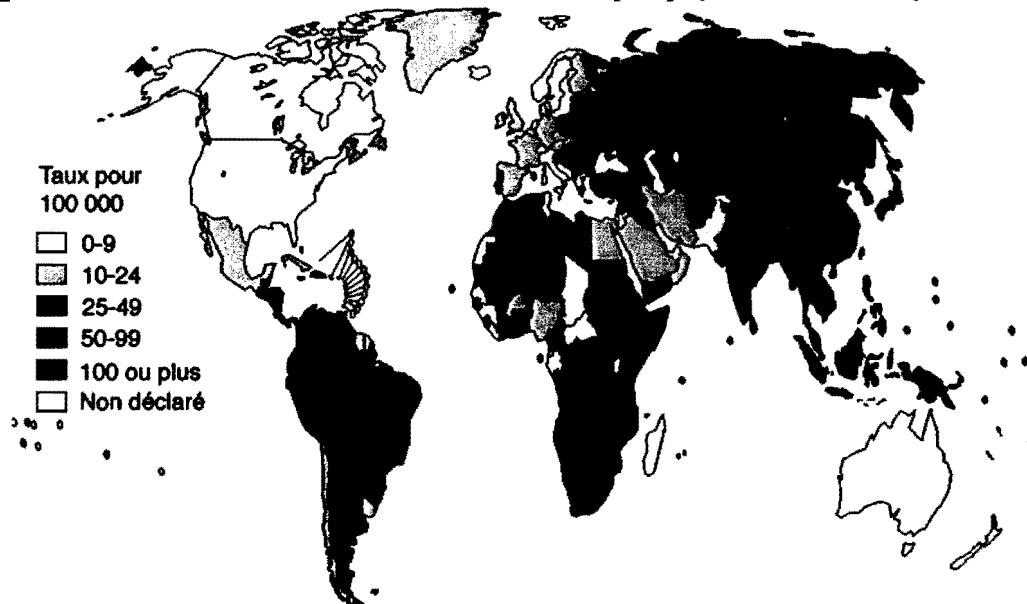
III. Pôles et aires de puissance : les « Nord » et les « Sud » (8 points)

7. Que mesure l'indice de Gini et comment ? (3)

8. Parmi quels pays dans le monde trouve-t-on un indice de Gini très élevé ?
Expliquez pourquoi. (5)

IV. Uniformisation et fractures du monde : la santé, un enjeu mondial (20 points)

Doc. 3: Taux d'incidence de la tuberculose déclarée par pays, année 2000 (Source: OMS)



(veuillez tourner la page s.v.p.)

9. **Doc. 3** [hors-carte]: Qu'est-ce que l'OMS ? **(1)**
10. **Doc. 3** [hors-carte]: Parmi quelle catégorie de pathologies (maladies) la tuberculose figure-t-elle ? (termes & explication)
Connaissez-vous deux autres exemples qui font partie de la même catégorie ? **(6)**
11. **Doc. 3** [hors-carte]: Donnez **quatre** facteurs liés au retard de développement qui favorisent la propagation de telles maladies. **(8)**
12. **Doc. 3** [carte]: Comment la carte ci-dessus montre-t-elle la « fracture sanitaire Nord-Sud », ainsi que les conséquences qui en découlent pour les pays du « Sud » ? **(5)**

